



education

Department:
Education
North West Provincial Government
REPUBLIC OF SOUTH AFRICA

PROVINSIALE ASSESSERING

GRAAD 11

EKONOMIE P1

JUNIE 2024

PUNTE: 150

TYD: 2 uur

Hierdie vraestel bestaan uit 12 bladsye.

INSTRUKSIES EN INLIGTING

1. Beantwoord VIER vrae soos volg in die ANTWOORDEBOEK:

AFDELING A: VERPLIGTEND

AFDELING B: Beantwoord TWEE van die drie vrae.

AFDELING C: Beantwoord EEN van die twee vrae.

2. Beantwoord slegs die vereiste getal vrae. Addisionele antwoorde sal NIE nagesien word NIE.
3. Nommer die antwoorde korrek volgens die nommeringstelsel wat in hierdie vraestel gebruik is.
4. Skryf die vraagnommer boaan elke antwoord.
5. Lees die vrae aandagtig deur.
6. Begin ELKE vraag op 'n NUWE bladsy.
7. Laat 2–3 reëls tussen onderafdelings van vrae oop.
8. Beantwoord die vrae in volsinne en maak seker dat die formaat, inhoud en konteks van jou antwoorde aan die kognitiewe vereistes van die vrae voldoen.
9. Gebruik slegs swart of blou ink.
10. Jy mag 'n nieprogrammeerbare sakrekenaar gebruik.
11. Skryf netjies en leesbaar.

AFDELING A (VERPLIGTEND)**VRAAG 1****30 PUNTE – 20 MINUTE**

- 1.1 Verskeie opsies word as moontlike antwoorde op die volgende vrae gegee. Kies die antwoord en skryf slegs die letter (A–D) langs die vraagnommers (1.1.1 tot 1.1.8) in die ANTWOORDEBOEK neer, bv. 1.1.9 D.
- 1.1.1 Wanneer die kapitaalvoorraad teen dieselfde tempo as die arbeidsmag groei.
- A Bruto vaste kapitaalvorming
 - B Bruto wins
 - C Kapitaalverdieping
 - D Kapitaalverbreding
- 1.1.2 Die prys wat betaal word vir die gebruik van natuurlike hulpbronne word ... genoem.
- A wins
 - B huur
 - C ruil waarde
 - D geld
- 1.1.3 Die waarde van die finale produksie wat deur die burgers van 'n land geproduseer word, ongeag waar hulle geleë is, is die ...
- A bruto binnelandse produk.
 - B bruto nasionale inkomste.
 - C bruto binnelandse inkomste.
 - D bruto nasionale produk.
- 1.1.4 Dubbeltelling is 'n probleem wat voorkom wanneer die ... metode gebruik word om BBP te bereken.
- A besteding
 - B produksie
 - C inkomste
 - D verbruik
- 1.1.5 Markkragte van vraag en aanbod bepaal wat, hoe en vir wie geproduseer sal word.
- A Mark ekonomie
 - B Sentrale beplande ekonomie
 - C Gemengde ekonomie
 - D Mark
- 1.1.6 Die volgende reëls en prosedures deur regeringsamptenare wat vertragings in die verskaffing van dienste veroorsaak, word ... genoem.
- A aanspreeklikheid
 - B hiërargie
 - C burokrasie
 - D regulasies

1.1.7 SANRAL is verantwoordelik vir die instandhouding van die ... in Suid-Afrika.

- A spoorwegnetwerk
- B hawens
- C lughawens
- D nasionale paaie

1.1.8 Ekonomiese groei word gemeet en uitgedruk in terme van werklike ...

- A bruto nasionale produk.
- B bruto binnelandse besteding.
- C bruto binnelandse produk.
- D bruto nasionale besteding.

(8 x 2) (16)

1.2 Kies 'n beskrywing uit KOLOM B wat by 'n term in KOLOM A pas.
Skryf slegs die letter (A–I) langs die vraagnommer (1.2.1 tot 1.2.8) in die ANTWOORDEBOEK neer, bv.1.2.9 J.

KOLOM A	KOLOM B
1.2.1 Nominale loon	A dit behels die vloeï van goedere en dienste vanaf die produsente na die verbruikers
1.2.2 Gemeenskapsforum	B die bedrag geld in rande (geldeenheid) wat 'n werker vir sy arbeid ontvang
1.2.3 Geldvloeï	C die meganismes wat gevolg word in die toekenning van hulpbronne, produksie en verspreiding van goedere en dienste
1.2.4 Residuele item	D regeringsektor werk saam vir wins en gemeenskapsontwikkeling
1.2.5 Ekonomiese stelsel	E die vloeï van inkomste en uitgawes tussen deelnemers in die ekonomie
1.2.6 Privaat openbare vennootskap	F produseer 'n verskeidenheid gewasse en diereprodukte wat voedsel vir die land verska.
1.2.7 Landbousektor	G openbare vergadering waardeur regeringsamptenare en gemeenskapslede na mense se bekommernisse en idees rakende plaaslike ontwikkeling moet luister
1.2.8 Tersiêre sektor	H word gebruik om foute en weglatings in die nasionale rekeninge vas te lê met behulp van die bestedingsmetode

(8 x 1) (8)

1.3 Gee EEN term vir elk van die volgende beskrywings. Skryf slegs die term langs die vraagnommers (1.3.1 tot 1.3.6) in die ANTWOORDEBOEK neer. Afkortings, akronieme en voorbeelde sal NIE aanvaar word NIE.

1.3.1 Goedere wat deur ander ondernemings as insette gebruik word

1.3.2 Geskenke van die natuur wat natuurlik voorkom

1.3.3 'n Regeringsinisiatief om korttermynwerkgeleenthede te skep om die gemarginaliseerde groep te bemagtig deur hulle toe te laat om vaardigheid te bekom en inkomste uit die werksgeleenthede te verdien

1.3.4 Dit is gebaseer op privaat besit en winsmotief en dit word ook kapitalisme genoem

1.3.5 Bestaan uit plantasie van hernubare hout soos denne

1.3.6 Goedere en dienste wat deur plaaslike sektore vervaardig word en dan verkoop word aan buitelandse lande (6 x 1) (6)

TOTALE AFDELING A: 30

AFDELING B

Beantwoord enige TWEE van die drie vrae in hierdie afdeling in die ANTWOORDEBOEK.


VRAAG 2: MAKRO-EKONOMIE**40 PUNTE – 30 MINUTE**

2.1 Beantwoord die volgende vrae.

2.1.1 Noem enige TWEE voorbeelde van semi-duursame goedere. (2 x 1) (2)

2.1.2 Hoekom is dit belangrik dat markte doeltreffend in 'n ekonomie moet wees? (1 x 2) (2)

2.2 Bestudeer die uittreksel hieronder en beantwoord die vrae wat volg.



'n Ekonomie is 'n stelsel van interverwante produksie en verbruiksaktiwiteite wat die toekenning van hulpbronne binne die gemeenskap bepaal. Daar is drie hoof tipes ekonomieë: vryemark, bevel en gemengde ekonomie. Individue en besighede neem hul eie ekonomiese besluite. Die regering neem al die lande se besluite.

[Aangepas uit www.sparknotes.com. Besoek op 12 Februarie 2023.]

2.2.1 Identifiseer 'n regeringsvlak uit die inligting hierbo. (1)

2.2.2 Noem die ekonomiese stelsel wat Suid-Afrika tans gebruik. (1)

2.2.3 Beskryf kortliks die term *Sentrale beplande ekonomie*. (2)

2.2.4 Verduidelik eienaarskap as 'n kenmerk van 'n sentrale beplande ekonomie. (2)

2.2.5 Hoe bevoordeel vryheid van keuse die huishoudings as verbruikers van goedere en dienste? (4)

2.3 Bestudeer die tabel hieronder en beantwoord die vrae wat volg.

BBP EN BNI VIR SEELAND	
KOMPONENT	RAND MILJARDE
Verbruiksbesteding deur huishoudings	1473
Owerheidsbesteding	505
Beleggingsbesteding deur huishoudings	468
Uitvoere van goedere en dienste	657
Invoere van goedere en dienste	(678)
BBP	2425
Faktorinkomste wat oorsee deur Suid Afrikaners verdien is	34
Faktorinkomste wat in Suid Afrika deur buitelanders verdien is	(87)
BNI	A

[Bron: Suid-Afrikaanse Reserwebank kwartaallikse bulletin]

- 2.3.1 Identifiseer EEN lekkasie uit die tabel hierbo. (1)
 - 2.3.2 Lys enige element van insputings in die ekonomiese kringloop? (1)
 - 2.3.3 Beskryf kortliks die konsep *Bruto nasionale inkomste*. (2)
 - 2.3.4 Watter effek sal die inkomste wat buitelanders in Suid-Afrika verdien, op die ekonomiese kringloop hê? (2)
 - 2.3.5 Bereken die BNI (A) vir Seeland. Wys ALLE berekeninge. (4)
 - 2.4 Bespreek die voordele van 'n sentrale beplande ekonomie. (4 x 2) (8)
 - 2.5. Hoe gaan 'n toename in staatsbesteding die ekonomie beïnvloed? (4 x 2) (8)
- [40]**

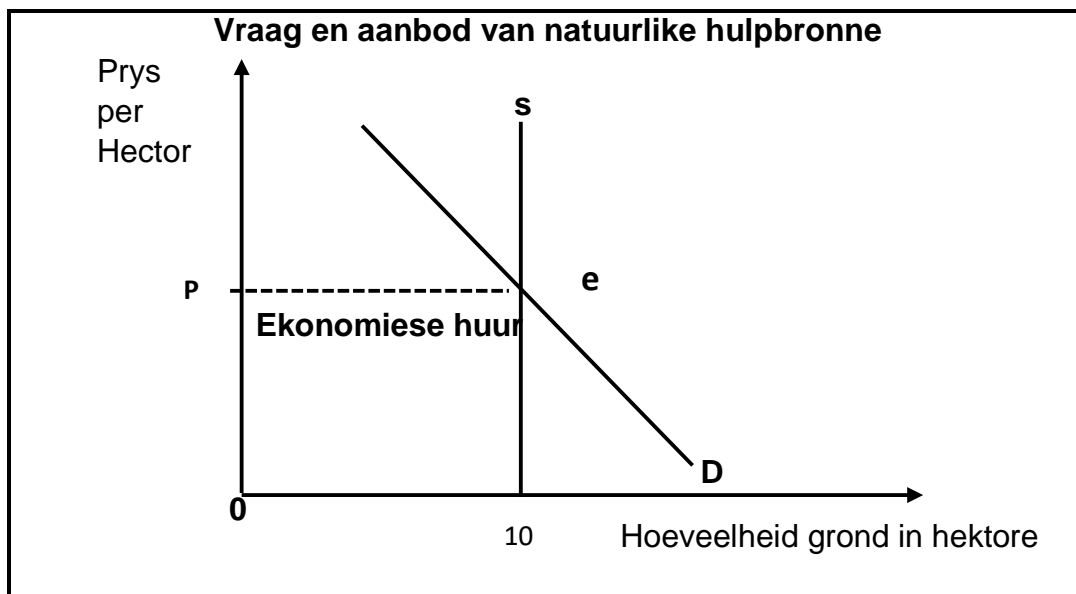
VRAAG 3: MAKRO-EKONOMIE**40 PUNTE – 30 MINUTE**

3.1 Beantwoord die volgende vrae.

3.1.1 Noem enige TWEE nadele van 'n gemengde ekonomie. (2 x 1) (2)

3.1.2 Wat is die verband tussen finale verbruik deur huishoudings en ekonomiese ontwikkeling? (1 x 2) (2)

3.2 Bestudeer die grafiek hieronder en beantwoord die vrae wat volg.



3.2.1 Identifiseer die vorm van vergoeding vir natuurlike hulpbronne op die grafiek hierbo. (1)

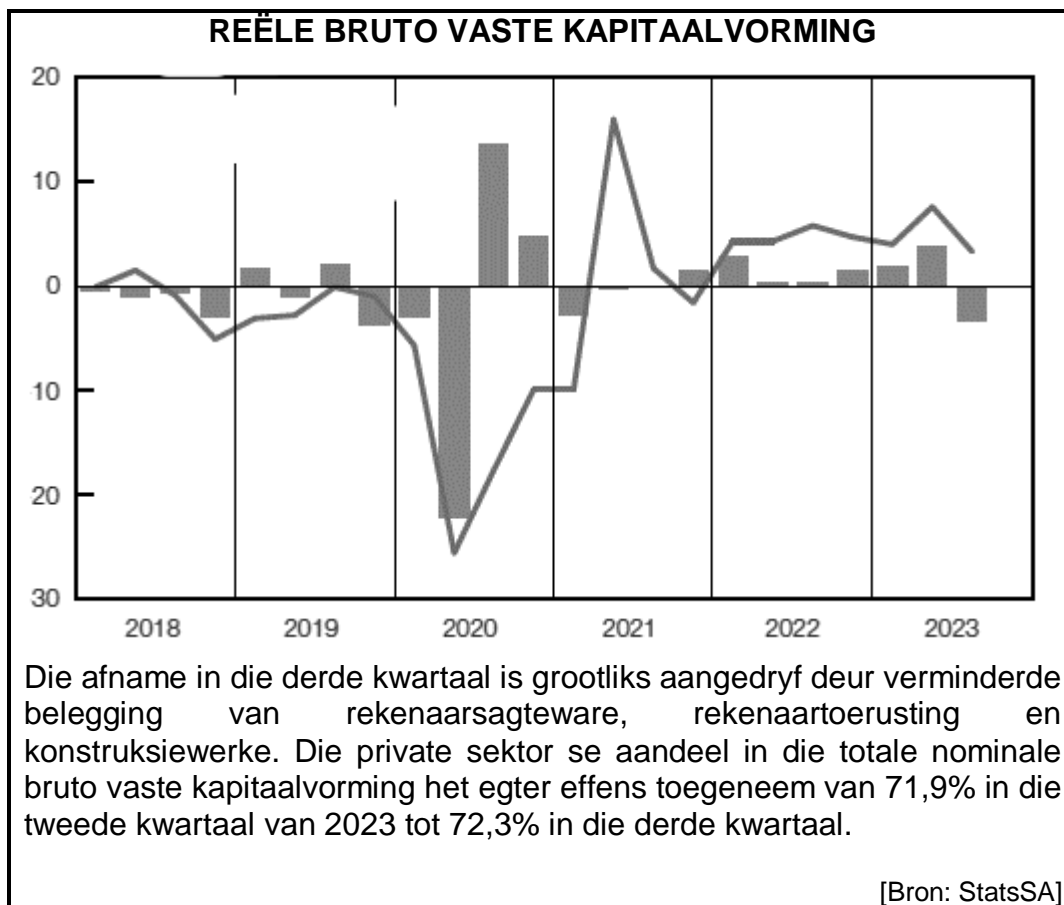
3.2.2 Noem die eienskap van natuurlike hulpbronne wat verband hou met die hoeveelheid daarvan. (1)

3.2.3 Beskryf kortliks die term *Produksie faktore*. (2)

3.2.4 Wat is die verband tussen die vergoeding van natuurlike hulpbronne en hul nabyheid aan markte? (2)

3.2.5 Hoe dra natuurlike hulpbronne by tot die industrialisering van die Suid-Afrikaanse ekonomie? (4)

3.3 Bestudeer die grafiek hieronder en beantwoord die vrae wat volg.



3.3.1 Identifiseer die kwartaal en jaar met die hoogste kapitaalvorming. (1)

3.3.2 Noem die vergoeding vir kapitaal. (1)

3.3.3 Beskryf kortliks die term *kapitaalvorming*. (2)

3.3.4 Verduidelik die belangrikheid van besparings vir die skepping van kapitaalgoedere. (2)

3.3.5 Waarom is kapitaalvorming belangrik vir die Suid-Afrikaanse ekonomie? (4)

3.4. Bespreek die produksie- en inkomstemetodes en hoe dit gebruik word om die bruto binnelandse produk te bepaal. (2 x 4) (8)

3.5. Evalueer die Suid-Afrikaanse regering se doeltreffendheid om sosio-ekonomiese dienste te lewer. (2 x 4) (8)

[40]

VRAAG 4: MAKRO-EKONOMIE**40 PUNTE – 30 MINUTE**

4.1 Beantwoord die volgende vrae.

4.1.1 Gee enige TWEE elemente van lekkasies in 'n ekonomiese kringloop.

(2 x 1) (2)

4.1.2 Hoe kan die onbillike markpraktyke deur staatsbeheerde Monopolieë Suid-Afrikaanse verbruikers negatief beïnvloed?

(1 x 2) (2)

4.2 Bestudeer die grafiek hieronder en beantwoord die vrae wat volg.

[Bron: www.google.com/southAfrica-ekonomie/]

4.2.1 Identifiseer uit die gegewe spotprent, die rede vir die gebrek aan sosiale en ekonomiese dienste? (1)


4.2.2 Watter vlak van die regering is verantwoordelik vir die beheer en die bestuur van munisipaliteite? (1)

4.2.3 Beskryf kortliks die term *regering*. (2)

4.2.4 Verduidelik die impak van swak dienslewering op ekonomiese groei. (2)

4.2.5 Hoe beïnvloed korrupsie dienslewering? (2 x 2) (4)

4.3 Bestudeer die inligting hieronder en beantwoord die vrae wat volg.



[Bron: www.statssa.gov.za/]

- 4.3.1 Identifiseer uit die inligting hierbo produkte wat die meeste tot die Suid-Afrikaanse vervaardigingsbedryf bygedra het. (1)
- 4.3.2 Noem die ekonomiese sektor waarin vervaardiging gekategoriseer word. (1)
- 4.3.3 Beskryf kortliks die term *ekonomiese struktuur*. (2)
- 4.3.4 Hoe sal 'n afname in vervaardiging werkskepping beïnvloed? (2)
- 4.3.5 Waarom is die Primêre sektor belangrik in die wêreldmark? (4)
- 4.4 Bespreek die nadele van Suid-Afrika se gemengde ekonomie. (2 x 4) (8)
- 4.5 Evalueer die bydrae van Suid-Afrikaanse besighede in die ekonomie. (4 x 2) (8)
- [40]**

TOTAAL AFDELING B: 80

AFDELING C

Beantwoord enige EEN van die twee vrae in hierdie afdeling in die ANTWOORDEBOEK. Jou antwoord sal soos volg geassesseer word:

STRUKTUUR VAN OPSTEL	PUNTE-TOEKENNING
Inleiding Die inleiding is 'n laerorde-antwoord . <ul style="list-style-type: none"> • 'n Goeie begin is om die sleutelkonsep wat met die vraag verband hou, te definieer of te omskryf. • MOENIE enige deel van die vraag by die inleiding insluit NIE. • MOENIE enige deel van die inleiding by die liggaam herhaal NIE. • Vermoed dit om in die inleiding te noem wat jy in die liggaam gaan bespreek. 	Maks. 2
Liggaam: Hoofgedeelte: Bespreek in besonderhede/Diepgaande bespreking/ Onderzoek/Bespreek krities/Analiseer/ Vergelyk/Evalueer/ Onderskei/Verduidelik/Teken 'n grafiek en verduidelik/Gebruik die grafiek gegee en verduidelik/Voltooi die grafiek gegee/Assesseer/Debatteer 'n Maksimum van 8 punte kan vir opskrifte/voorbeelde toegeken word. Bykomende deel: Bespreek krities/Evalueer/Evalueer krities/Debatteer/Lei af/Vergelyk/Onderskei/Interpreteer/Hoe?/Stel voor 'n Maksimum van 2 punte kan vir die blote noem van feite toegeken word.	Maks. 26
Gevolgtrekking Enige hoërde-slot behoort die volgende in te sluit: <ul style="list-style-type: none"> • 'n Kort samevatting van wat bespreek is, sonder die herhaling van enige feite wat reeds genoem is • Enige opinie of waardeoordeel oor die feite wat bespreek is • Bykomende ondersteunende inligting wat die bespreking/ontleding versterk • 'n Teenstrydige sienswyse met motivering, indien gevra • Aanbevelings 	Maks. 2
TOTAAL	40

40 PUNTE – 40 MINUTE**VRAAG 5: MAKRO-EKONOMIE**

- Bespreek in detail entrepreneurskap as 'n produksiefaktor. (26 punte)
- Hoe kan die gemeenskap deelneem aan die plaaslike ekonomiese beplanning van Suid-Afrika? (10 punte) **[40]**

VRAAG 6: MAKRO-EKONOMIE**40 PUNTE – 40 MINUTE**

- Bespreek in detail Suid-Afrika se infrastruktuur en die ekonomiese belangrikheid daarvan. (26 punte)
- Evalueer die sukses van internetgebruik as 'n vorm van kommunikasie in Suid-Afrika. (10 punte) **[40]**

TOTAAL AFDELING C: 40
GROOTTOTAAL: 150